

सतत् एवं व्यापक मूल्यांकन (आधार रेखा निर्धारण) सत्र -2015-16

विषय = English (अंग्रेजी)

नाम =

रोल नं. =.....

कक्षा = 2

दिनांक =.....

प्रश्न01:- नीचे दिए गए अक्षरों को पुनः बॉक्स में लिखो ।

a

f

h

r

प्रश्न02:- निम्नलिखित शब्दों को पुनः लिखो ।

Banana

.....

Mango

.....

Grapes

.....

प्रश्न03:- एक जैसे बड़े तथा छोटे अक्षरों को मिलाओ ।

d

I

h

G

i

H

g

D

प्रश्न04:- फलों के नाम लिखो ।



Banana

B.....



Mango

M.....



Grapes

G.....

सतत् एवं व्यापक मूल्यांकन (आधार रेखा निर्धारण) सत्र -2015-16

विषय = गणित

नाम =

रोल नं. =

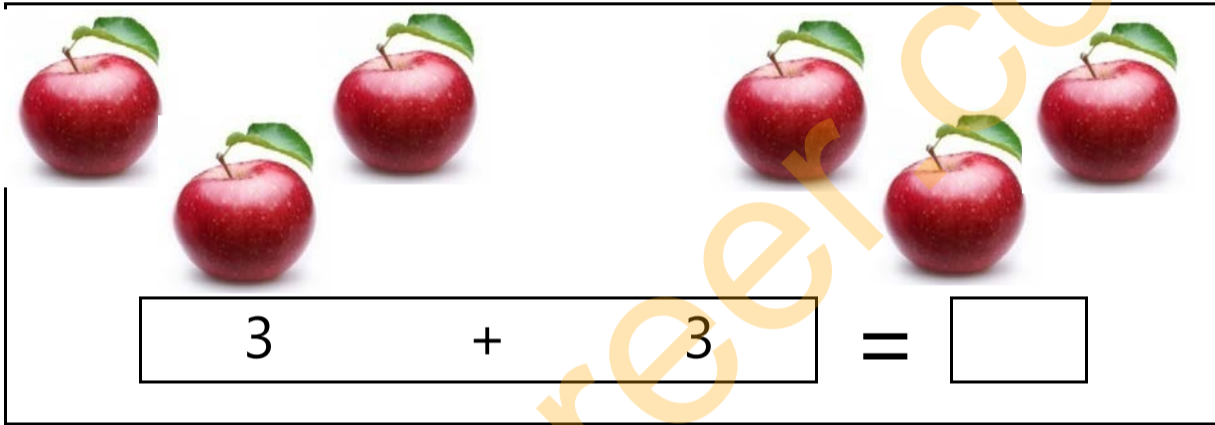
कक्षा = 2

दिनांक =

प्रश्न01:- चित्रों को गिनकर संख्या लिखो।



प्रश्न02:- जोड़ कर लिखो।



प्रश्न03:- 1 से 80 तक की गिनती लिखो।

1							
2							
3							
4							
5							
6							
7							
8							
9							
10							

प्रश्न04:- दी गयी संख्याओं के बीच की संख्या लिखो।

9 <input type="text"/> 11	21 <input type="text"/> 23	35 <input type="text"/> 37
60 <input type="text"/> 62	20 <input type="text"/> 22	98 <input type="text"/> 100

सतत् एवं व्यापक मूल्यांकन (आधार रेखा निर्धारण) सत्र -2015-16

विषय = हिन्दी

नाम =

रोल नं. =.....




कक्षा = 2

दिनांक =.....

प्रश्न01:- बायीं ओर दिए गए वर्णों के समान दाहिनी तरफ के वर्णों पर घेरा बनाओ।

म	-	र	म	भ	य	प	म
च	-	फ	च	क	ह	च	छ
ट	-	ट	ठ	ड	ट	ढ	ट
प	-	ष	प	य	म	प	य
क	-	क	फ	प	छ	म	क

प्रश्न02:- दिए गए चित्रों को उनके नाम से मिलाओ।

आम	
अंगूर	
केला	

प्रश्न03:- शब्दों को पूरा कीजिए ।

क.....तर

ट.....टर

ति.....ली

खर.....श

प्रश्न04:- हिन्दी की वर्णमाला लिखो ।

