

सतत् एवं व्यापक मूल्यांकन ( आधार रेखा निर्धारण ) सत्र -2015-16

विषय = English ( अंग्रेजी )

नाम = .....

रोल नं. = .....

कक्षा = 3

दिनांक = .....

प्रश्न 01 - नीचे दिए गए खाली स्थान में A से Z तक अंग्रेजी की वर्णमाला लिखिए।

.....  
.....  
.....  
.....  
.....

प्रश्न02:- नीचे दिए गए अक्षरों को पुनः बॉक्स में लिखो।

a

f

h

r

प्रश्न03:- निम्नलिखित शब्दों को पुनः लिखो।

Elephant

.....

Aeroplane

.....

Umbrella

.....

प्रश्न04:- एक जैसे शब्दों को मिलाओ।

DOG

toy

TOY

mohan

MOHAN

girl

GIRL

dog

प्रश्न05:- फलों के नाम पुनः लिखो।

Banana

B.....

Mango

M.....

Grapes

G.....

सतत् एवं व्यापक मूल्यांकन ( आधार रेखा निर्धारण ) सत्र -2015-16

विषय = हिन्दी




नाम = .....

रोल नं. =.....

कक्षा = 3

दिनांक =.....

प्रश्न01:- दिए गए चित्रों के आगे उनके नाम लिखो ।

प्रश्न02:- शब्दों को पूरा कीजिए ।

अ.....गर

ग.....ला

ति.....ली

ब.....ख

प्रश्न03:- हिन्दी की वर्णमाला लिखो ।

—	—	—	—	—
—	—	—	—	—
—	—	—	—	—
—	—	—	—	—
—	—	—	—	—
—	—	—	—	—
—	—	—	—	—

प्रश्न04:- छांटो और लिखो ।

आम, गुलाब, गुलाबजामुन, केला, हलवा, कमल, मालपुआ, गेंदा ,  
जामुन, शहतूत, चमेली, बर्फी

<u>फल का नाम</u>

<u>फूल का नाम</u>

<u>मिठाई का नाम</u>

सतत् एवं व्यापक मूल्यांकन ( आधार रेखा निर्धारण ) सत्र -2015-16

विषय = पर्यावरण अध्ययन

नाम = .....

रोल नं. =.....

कक्षा = 3

दिनांक =.....

प्रश्न01:- तुम्हें बारिश के दिनों में क्या-क्या अच्छा लगता है ? लिखो ।

---

---

---

प्रश्न02:-पानी हमारे जीवन में किन-किन कार्यों में काम आता है ?

---

---

---

प्रश्न03:- नीचे घर में खाने-पीने की चीजों को बनाने के तरीके दिए गए हैं, इन तरीकों से कौन-कौन सी चीजें बनती हैं ? उनके नाम लिखो ।

तलकर	1	_____	2	_____
सेककर	1	_____	2	_____
उबालकर	1	_____	2	_____
भूनकर	1	_____	2	_____

प्रश्न04:-क्या तुम हाथ धोकर खाना खाते हो ? क्यों ?

---

---

प्रश्न05:-अच्छी आदतें कौन-कौन सी होती हैं ? उनके नाम लिखो ।

---

---

---

प्रश्न06:-तुम्हारे माता-पिता क्या-क्या काम करते हैं ? उनके नाम लिखो ।

---

---

---

प्रश्न07:-तुम स्कूल में कौन-कौन से खेल खेलते हो ? उनके नाम लिखो ।

---

---

---

प्रश्न08:-पेड़ हमें क्या-क्या देते हैं ?

---



---

---

प्रश्न01:- दिए गए बॉक्सों में जोड़कर सही संख्या लिखो।

2	+	2	=	
1	+	3	=	
2	+	3	=	

प्रश्न02:- निम्नलिखित चित्रों को गिनकर बाकी करो।

	-		=	
5	-	3	=	

प्रश्न03:- 2 से 10 तक के पहाड़े लिखो।

2							
4							
6							
8							
10							
12							
14							
16							
18							
20							

प्रश्न04:- जोड़ एवं बाकी करो।

3	+	3	=	
7	-	3	=	
9	+	5	=	
10	-	5	=	